

Intelligenzquotient

Aufgabennummer: B_236

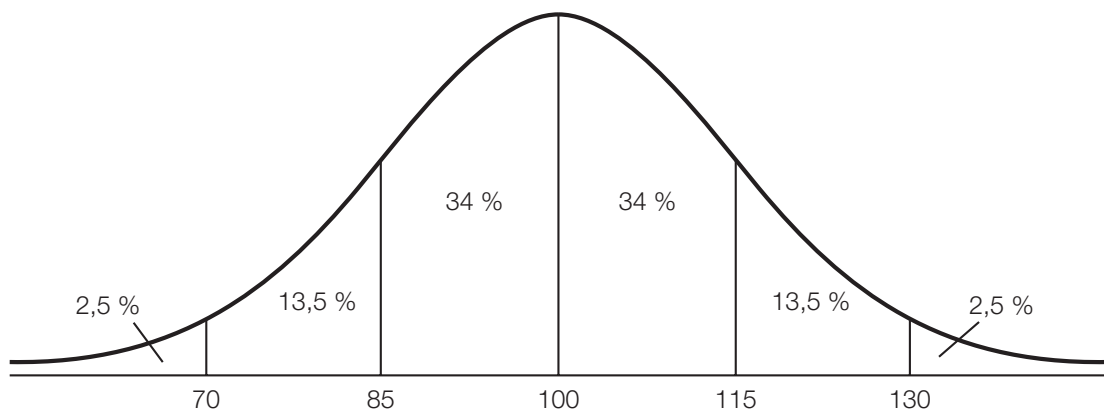
Technologieeinsatz:

möglich

erforderlich

Der Intelligenzquotient (IQ) ist eine Kenngröße zur Bewertung des allgemeinen intellektuellen Leistungsvermögens (Intelligenz) eines Menschen. Er vergleicht die Intelligenz eines Menschen mit der mittleren Intelligenz der Gesamtbevölkerung im selben Zeitraum und im vergleichbaren Alter.

- a) Interpretieren Sie den IQ als normalverteilte Zufallsgröße mit Erwartungswert $\mu = 100$:
- Lesen Sie den ungefähren Wert der Standardabweichung aus der unten stehenden Grafik ab.
 - Lesen Sie die IQ-Untergrenze der intelligentesten 16 % ab.
 - Schätzen Sie aus der Grafik ab, wie viel Prozent der Personen einen höheren IQ als 90 haben.



- b) Bei einem IQ-Test erreichte eine Gruppe von 5 Schülerinnen und Schülern Werte von 90, 95, 100, 105 und 110 IQ-Punkten, eine andere Gruppe 85, 90, 95, 105 und 125 IQ-Punkte.
- Berechnen Sie die arithmetischen Mittel sowie die Streuungsmaße *Spannweite* und *Standardabweichung* (auf eine Dezimalstelle gerundet) der beiden Stichproben.
 - Interpretieren Sie die Unterschiede.

- c) Eine Gruppe von 10 Schülerinnen und Schülern machte einen Intelligenztest. Dieselben Schüler/innen füllten einen Fragebogen aus, der Aufschluss über das Selbstbewusstsein gibt (je höher die Punktezahl, desto größer das Selbstbewusstsein). Die Ergebnisse sind in der folgenden Tabelle zusammengefasst:

IQ-Punkte x	101	96	120	105	103	90	107	98	110	103
Selbstbewusstsein y	3	1	4	3	4	2	5	2	4	2

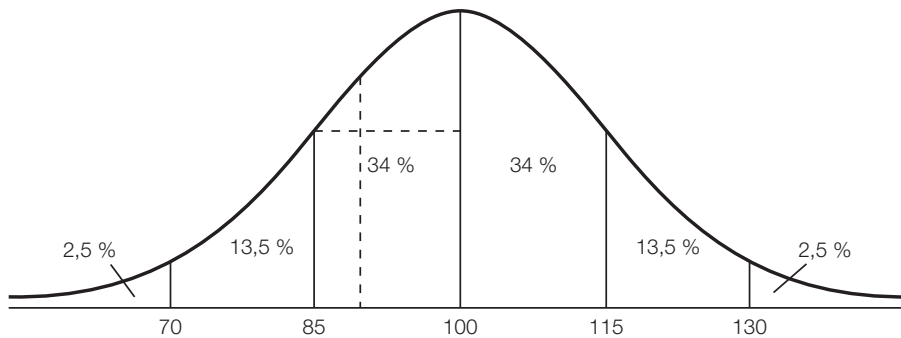
- Ermitteln Sie die Gleichung der Regressionsgeraden.
- Stellen Sie die Punktwolke und die Regressionsgerade grafisch dar.
- Berechnen Sie mithilfe dieses Modells das Selbstbewusstsein eines Schülers oder einer Schülerin mit einem IQ von 110.

Hinweis zur Aufgabe:

Lösungen müssen der Problemstellung entsprechen und klar erkennbar sein. Ergebnisse sind mit passenden Maßeinheiten anzugeben. Diagramme sind zu beschriften und zu skalieren.

Möglicher Lösungsweg

- a) Standardabweichung $\sigma \approx 15$ IQ-Punkte
Die IQ-Untergrenze der intelligentesten 16 % liegt bei 115 IQ-Punkten.



Abschätzen z. B. durch Aufteilen der Fläche unterhalb der Kurve:

Ca. $\frac{1}{4}$ der Fläche zwischen den Grenzen 85 und 100 liegt links von der strichlierten Linie.

$\frac{3}{4}$ von 34 % ≈ 25 %

Etwa 75 % haben einen höheren IQ als 90.

- b)

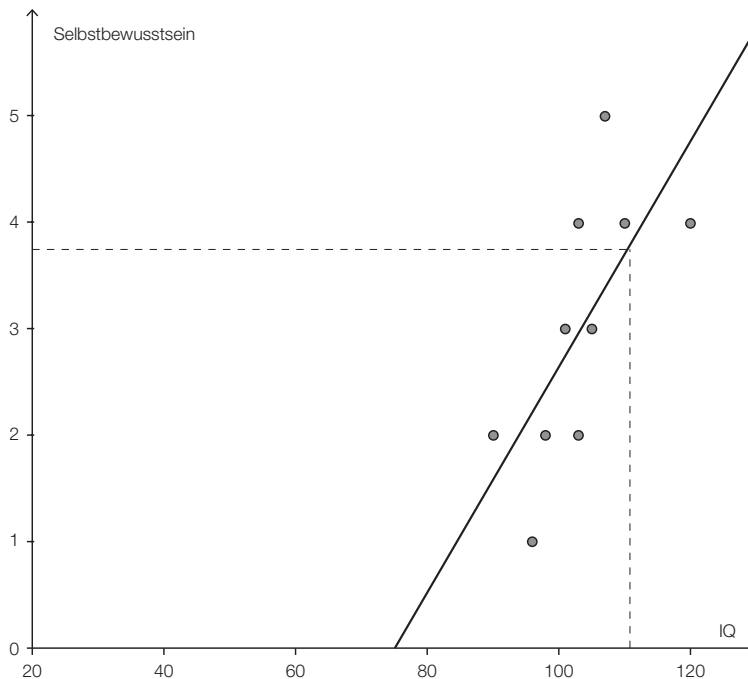
	Gruppe 1	Gruppe 2
arithmetisches Mittel in IQ-Punkten	100	100
Spannweite in IQ-Punkten	20	40
Standardabweichung in IQ-Punkten	7,905... $\approx 7,9$	15,811... $\approx 15,8$

Das arithmetische Mittel ist bei beiden Gruppen gleich.

Die Spannweite und die Standardabweichung sind bei Gruppe 2 doppelt so groß wie bei Gruppe 1.

Die Testergebnisse der Gruppe 2 (2. Stichprobe) sind um das arithmetische Mittel breiter gestreut. Sie liegen weniger dicht beisammen.

- c) Gleichung der Regressionsgeraden:
 $-640x + 6041y = -47$
bzw. $y = 0,106x - 7,944$ (auf 3 Dezimalstellen gerundet)
(mit GeoGebra ermittelt – kann bei anderer Technologie geringfügig abweichen)



Bei Verwendung eines grafikfähigen Taschenrechners reicht eine Handskizze.

Ein Schüler oder eine Schülerin mit einem IQ von 110 erreicht auf der Skala für das Selbstbewusstsein einen Wert von etwa 3,8.

Ableseungenauigkeiten (vor allem bei Handzeichnung) sind zu tolerieren.
Auch eine Berechnung mithilfe der Gleichung ist möglich.

Klassifikation

Teil A Teil B

Wesentlicher Bereich der Inhaltsdimension:

- a) 5 Stochastik
- b) 5 Stochastik
- c) 5 Stochastik

Nebeninhaltsdimension:

- a) —
- b) —
- c) —

Wesentlicher Bereich der Handlungsdimension:

- a) C Interpretieren und Dokumentieren
- b) B Operieren und Technologieeinsatz
- c) B Operieren und Technologieeinsatz

Nebenhandlungsdimension:

- a) B Operieren und Technologieeinsatz
- b) C Interpretieren und Dokumentieren
- c) —

Schwierigkeitsgrad:

- a) leicht
- b) leicht
- c) leicht

Punkteanzahl:

- a) 3
- b) 2
- c) 3

Thema: Psychologie

Quelle: <http://www.dezimmer.net/HTML/1974iq5-korrelation.htm>