

# Fairtrade\*

Aufgabennummer: B\_399

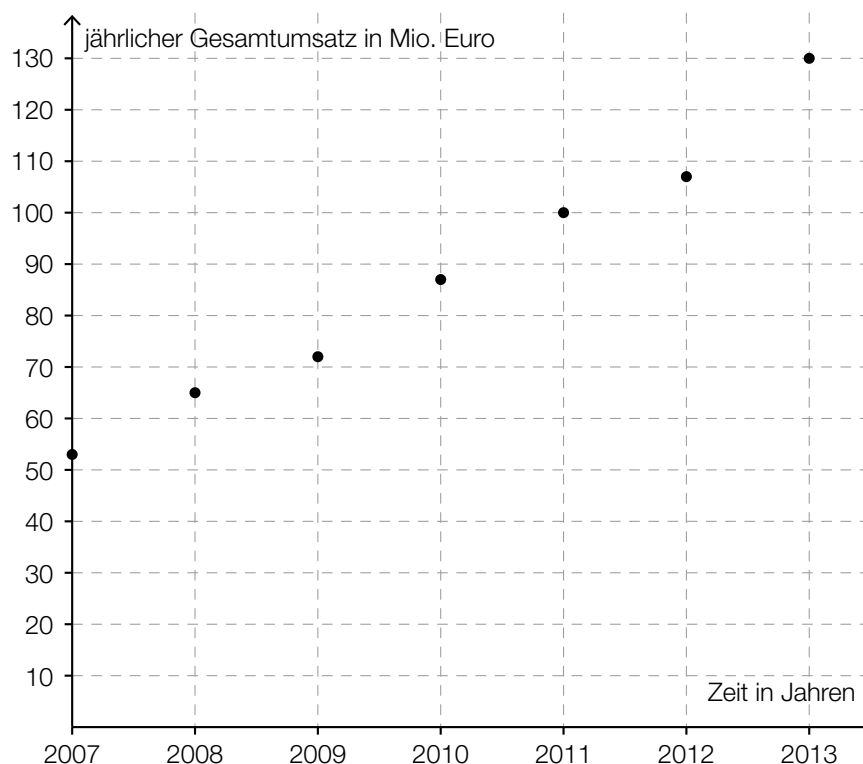
Technologieeinsatz:                      möglich                       erforderlich

Der Gesamtumsatz von Fairtrade-Produkten in Österreich ist in den letzten Jahren deutlich gestiegen:

Jahr	2007	2008	2009	2010	2011	2012	2013
jährlicher Gesamtumsatz in Millionen (Mio.) Euro	53	65	72	87	100	107	130

Quelle: [http://www.fairtrade.at/fileadmin/AT/Materialien/2013\\_FAIRTRADE\\_Inside\\_Zahlen\\_Fakten.pdf](http://www.fairtrade.at/fileadmin/AT/Materialien/2013_FAIRTRADE_Inside_Zahlen_Fakten.pdf) [05.09.2016].

a) Die nachstehende Abbildung zeigt diese Gesamtumsatzentwicklung.



Der jährliche Gesamtumsatz soll in Abhängigkeit von der Zeit beschrieben werden.

- Ermitteln Sie mithilfe der gegebenen Daten eine Gleichung der zugehörigen linearen Regressionsfunktion. Wählen Sie  $t = 0$  für das Jahr 2007.
- Zeichnen Sie den Graphen der Regressionsfunktion im obigen Koordinatensystem ein.
- Beurteilen Sie mithilfe des Korrelationskoeffizienten, ob die lineare Regressionsfunktion ein geeignetes Modell zur Beschreibung der Gesamtumsatzentwicklung ist.
- Berechnen Sie anhand dieses Modells den zu erwartenden jährlichen Gesamtumsatz im Jahr 2020.

\* ehemalige Klausuraufgabe

- b) Betrachtet man nur den Zeitraum von 2009 bis 2013, so kann die Entwicklung des Gesamtumsatzes näherungsweise durch die Funktion  $f$  beschrieben werden:

$$f(t) = 13,6 \cdot t + 72$$

$t$  ... Zeit in Jahren ab 2009 ( $t = 0$  entspricht dem Jahr 2009)

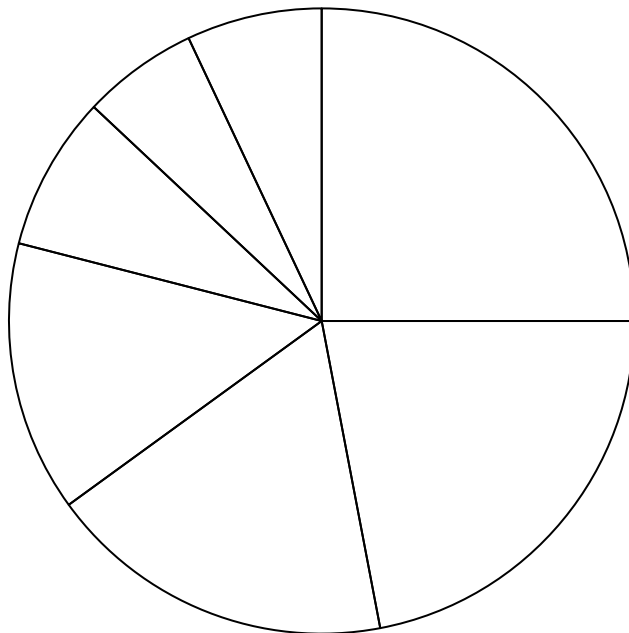
$f(t)$  ... jährlicher Gesamtumsatz zur Zeit  $t$  in Mio. Euro

- Interpretieren Sie den Wert der Steigung dieser Funktion im gegebenen Sachzusammenhang.

- c) Im Jahr 2012 teilte sich der Gesamtumsatz auf folgende 7 Bereiche auf:  
Baumwolle, frische Früchte, Fruchtsäfte, Kaffee, Rosen, Süßwaren und Rest.

Der Umsatz an Kaffee betrug in diesem Jahr 18 % des Gesamtumsatzes.

- Kennzeichnen Sie im nachstehenden Diagramm denjenigen Sektor, der dem Umsatz an Kaffee entspricht.



Der Umsatz an Süßwaren betrug 2012 etwa 24 Mio. Euro.

- Berechnen Sie, wie viel Prozent der Umsatz an Süßwaren in Bezug auf den Gesamtumsatz im Jahr 2012 (siehe Tabelle) betrug.

*Hinweis zur Aufgabe:*

*Lösungen müssen der Problemstellung entsprechen und klar erkennbar sein. Ergebnisse sind mit passenden Maßeinheiten anzugeben. Diagramme sind zu beschriften und zu skalieren.*

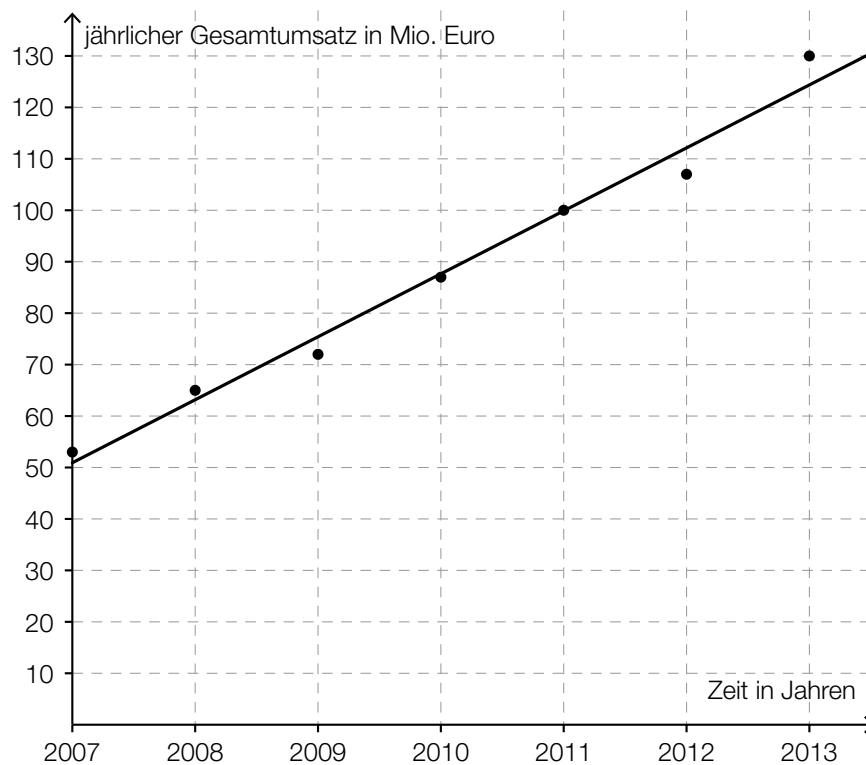
## Möglicher Lösungsweg

a) Ermitteln der Regressionsfunktion mittels Technologieeinsatz:

$$f(t) = 12,25 \cdot t + 50,96 \quad (\text{Koeffizienten gerundet})$$

$t$  ... Zeit in Jahren ( $t = 0$  entspricht dem Jahr 2007)

$f(t)$  ... jährlicher Gesamtumsatz zur Zeit  $t$  in Mio. Euro



Ermitteln des Korrelationskoeffizienten mittels Technologieeinsatz:  $r \approx 0,991$

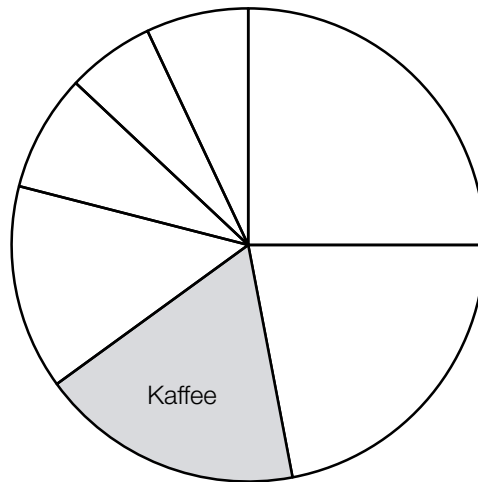
Da der Korrelationskoeffizient sehr nahe bei 1 liegt, kann ein starker linearer Zusammenhang vermutet werden.

$$f(13) = 210,2\dots$$

Gemäß diesem Modell wird der jährliche Gesamtumsatz im Jahr 2020 rund 210 Millionen Euro betragen.

b) Gemäß diesem Modell steigt der jährliche Gesamtumsatz pro Jahr um 13,6 Millionen Euro.

c)



$$\frac{24}{107} = 0,2242... \approx 22,4 \%$$

Der Umsatz an Süßwaren betrug im Jahr 2012 rund 22,4 Prozent des Gesamtumsatzes.

## Lösungsschlüssel

- a) 1 × B1: für das richtige Ermitteln der Gleichung der Regressionsfunktion  
1 × B2: für das richtige Einzeichnen des Graphen der Regressionsfunktion  
1 × D: für die richtige Beurteilung mithilfe des Korrelationskoeffizienten  
1 × B3: für die richtige Berechnung des jährlichen Gesamtumsatzes im Jahr 2020
- b) 1 × C: für die richtige Interpretation im gegebenen Sachzusammenhang
- c) 1 × C: für das richtige Kennzeichnen des Sektors, der den Umsatz an Kaffee darstellt  
1 × B: für die richtige Berechnung des Prozentsatzes